

Αγαπητές οικογένειες, Χριστός Ανέστη! Εύχομαι να είστε όλοι και όλες καλά!!!

Στα πλαίσια της ασύγχρονης, εξ αποστάσεως εκπαίδευσης των παιδιών σας είναι και η ενότητα που ακολουθεί για το μάθημα της Γεωγραφίας (**Ενότητα 4: Ο κήπος του σκολείου μου**). Το υλικό της ενότητας αυτής είναι παρμένο από το ενδεικτικό υλικό του ΥΠΠΑΝ για το μάθημα της Γεωγραφίας, όπως αυτό βρίσκεται αναρτημένο στην ιστοσελίδα του Υπουργείου Παιδείας, Πολιτισμού, Αθλητισμού και Νεολαίας. Η ενότητα είναι διαχωρισμένη σε τρία μέρη, οπότε για αυτή την εβδομάδα σας στέλνω μόνο το Μέρος Α. Τα παιδιά μπορούν να εργαστούν στον Η.Υ., συμπληρώνοντας τις εργασίες τους στις διαφάνειες της κάθε παρουσίασης (**εάν και εφόσον αυτό είναι εφικτό**) ή σε ένα φύλλο χαρτί. Εναλλακτικά, μπορούν να τις απαντούν και προφορικά.

Καλή συνέχεια!

Πού βρίσκεται;

Μέρος Α



Πού βρίσκεται;

➤ Απαντώ με ολοκληρωμένες προτάσεις και χρησιμοποιώ το σωστό λεξιλόγιο.

1. Διαλέγω ένα φυτό και περιγράφω τη θέση του στο παρτέρι.

.....
.....

2. Περιγράφω τη θέση του ψηλότερου φυτού στο παρτέρι.

.....
.....

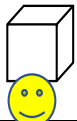


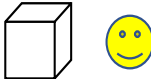
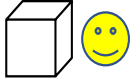


3. Περιγράφω τη θέση του θάμνου 1 σε σχέση με το κάγκελο.

- Ο θάμνος 1 βρίσκεται από το κάγκελο.

4. Περιγράφω τη θέση του θάμνου 2 σε σχέση με το γεράνι.

-

* Το πινακάκι «Πού βρίσκεται η φατσούλα;» με βοηθά να θυμηθώ χρήσιμες λεξούλες.

Πού βρίσκεται η φατσούλα; 😊	
μπροστά 	πίσω 
αριστερά 	δεξιά 
κοντά 	μακριά 
ανάμεσα 	δίπλα 