

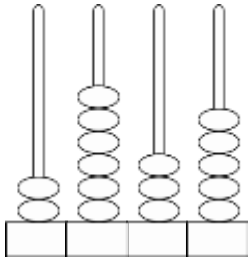


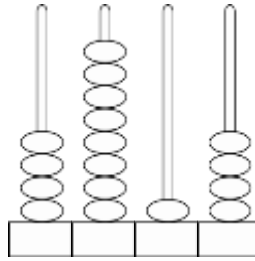
ΔΗΜΟΤΙΚΟ ΣΧΟΛΕΙΟ

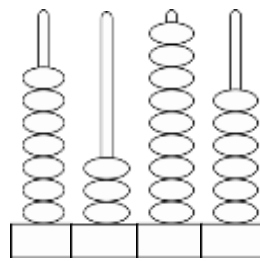
Όνομα: _____ Τάξη: _____

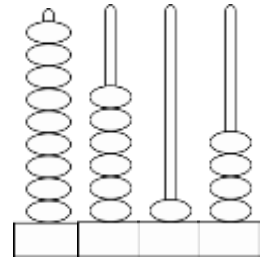
Τετραψήφιοι αριθμοί

1. Ποιον αριθμό δείχνει το αριθμητήριο;









2. Γράψε τους αριθμούς με σύμβολα:

Χίλια πεντακόσια εβδομήντα έξι

Δύο χιλιάδες εξακόσια τριάντα

Πέντε χιλιάδες τετρακόσια ογδόντα

Οχτώ χιλιάδες εννιακόσια ενενήντα εννιά

Πέντε χιλιάδες εφτακόσια ένα

Έξι χιλιάδες διακόσια οχτώ

3. Βρίσκω και υπογραμμίζω στο πιο κάτω κείμενο τους τετραψήφιους αριθμούς.

Έπειτα τους γράφω με αριθμητικά σύμβολα:

- Από τα ατυχήματα πετρελαιοφόρων το χίλια εννιακόσια ενενήντα χύθηκαν στη θάλασσα έξι χιλιάδες πεντακόσιοι δεκατρείς τόνοι πετρελαίου.
- Η έκταση της Κύπρου είναι εννέα χιλιάδες διακόσια πενήντα ένα τετραγωνικά χιλιόμετρα.
- Πολλά είδη θηλαστικών ζώων κινδυνεύουν να εξαφανιστούν. Ένα παράδειγμα είναι η τίγρη της Βεγγάζης. Το χίλια εννιακόσια εβδομήντα καταγράφηκαν χίλιες οκτακόσιες πενήντα τίγρεις. Σήμερα ο αριθμός τους αυξήθηκε στις τέσσερις χιλιάδες.

4. Γράψε τους αριθμούς με λέξεις:

1876

1457

3982

5630

7009

2020

5. Χρησιμοποίησε τα ψηφία 4, 6, 7, 9 για να κατασκευάσεις:

Δύο άρτιους αριθμούς:

Δύο περιττούς αριθμούς:

Δύο αριθμούς μεγαλύτερους από 6000:

6. Με τα παρακάτω ψηφία φτιάξε τον μεγαλύτερο και τον μικρότερο αριθμό.

2, 4, 1, 8 → 4, 9, 6, 6 →

7. Ποιος είναι ο επόμενος και ποιος ο προηγούμενος αριθμός;

..... 2901 5309

..... 1450 6500

8. Σταυρόλεξο αριθμών:

	1	2	3	4
1				
2				
3				
4				

ΟΡΙΖΟΝΤΙΑ

1. Δύο χιλιάδες εκατόν δεκαεφτά
2. Εφτά χιλιάδες πεντακόσια εξήντα εννιά
3. Τέσσερις χιλιάδες δέκα
4. Χίλια εκατόν τριάντα δύο

ΚΑΘΕΤΑ

1.
2.
3.
4.